

**Математика. 1 клас. Робочий
зошит. Ч. 2. (до підр. Будна)
НУШ**

Про книгу

Зошит з математики для 1 класу містить навчальний матеріал, який відповідає Державному стандарту початкової освіти, типовим освітнім програмам та підручнику «Математика. 1 клас» (авт. Будна Н.О.). Запропоновано вправи для вироблення навичок каліграфічного письма, різні за складністю завдання для самостійної роботи та завдання творчого характеру. Цікавим доповненням є кольорова вкладка з іграми та лічильним матеріалом. Зошит призначено для учнів 1-го класу.


Н.О. Будна

МАТЕМАТИКА



Нова
українська
школа

робочий зошит



1 клас

Частина 2

ІНТЕРАКТИВНИЙ ДОДАТОК

+ВКЛАДКА

● ІГРИ

● ЛІЦІЛЬНИЙ МАТЕРІАЛ



До підручника Н.О. Будної

Н.О. Будна

МАТЕМАТИКА

РОБОЧИЙ ЗОШИТ

1 клас

Частина 2

*Схвалено для використання у загальноосвітніх навчальних закладах
комісією з педагогіки та методики початкового навчання
Науково-методичної ради з питань освіти
Міністерства освіти і науки України*



ТЕРНОПІЛЬ
НАВЧАЛЬНА КНИГА – БОГДАН

УДК 51:372.4
ББК 22.1я71
Б 90

Рецензенти:

Гладюк Т.В., кандидат педагогічних наук, доцент
Онишків О.П., вчитель вищої категорії, вчитель-методист

*Схвалено для використання у загальноосвітніх навчальних закладах
комісією з педагогіки та методики початкового навчання
Науково-методичної ради з питань освіти Міністерства освіти і науки України
(лист ІМЗО від 30.07.2018 р. № 22.1/12-Г-586)*

Будна Н.О.

Б 90 Математика : робочий зошит : 1 кл. : Ч. 2. / Н.О. Будна. — Тернопіль : Навчальна книга – Богдан, 2018. — 64 с. : вкл.

ISBN 978-966-10-8508-3

Зошит з математики для 1 класу містить навчальний матеріал, який відповідає Державному стандарту початкової освіти, типовим освітнім програмам та підручнику «Математика. 1 клас» (авт. Будна Н.О.).

Запропоновано вправи для вироблення навичок каліграфічного письма, різні за складністю завдання для самостійної роботи та завдання творчого характеру.

Цікавим доповненням є кольорова вкладка з іграми та лічильним матеріалом.

Зошит призначено для учнів 1-го класу.

УДК 51:372.4
ББК 22.1я71

*Охороняється законом про авторське право.
Жодна частина цього видання не може бути відтворена
в будь-якому вигляді без дозволу видавництва.*

УВАГА!

Завантажуйте безкоштовний інтерактивний додаток,
використовуючи детальну інструкцію, за посиланням:

bohdan-digital.com/009616



Технічна підтримка: (0352) 52-06-07, 067-352-09-89;
admin@bohdan-digital.com

Збільшення і зменшення числа на 1 та 2

1. Оленка намалювала 5 грибів, а Петрик — на 2 гриби менше. Скільки грибів намалював Петрик?

$$5 \square = \square \quad (\square)$$


Відповідь: \square гриби.



2. Оля вирізала 3 кружечки, а Андрій — на 2 кружечки більше. Скільки кружечків вирізав Андрій?

$$3 \square = \square \quad (\square)$$

Відповідь: \square кружечків.



3. Упиши потрібний знак.

$$6 \square 2 = 4$$

$$10 \square 2 = 8$$

$$5 \square 1 = 4$$

$$7 \square 2 = 9$$

$$5 \square 2 = 7$$

$$9 \square 1 = 10$$



4. Виміряй довжину даного відрізка. Запиши. Накресли відрізок, на 2 см коротший від даного. Вкажи його довжину.

 \square см

 \square см

Задачі на збільшення і зменшення числа на 1 та 2

1. У будинку живуть 3 собаки, а котів — на 1 більше. Скільки котів живе в будинку?

$$\square = \dots (\dots)$$



котів
на 1 більше




Відповідь: \dots коти.

2. У Петрика 5 книжок, а в Іринки — на 2 книжки менше. Скільки книжок в Іринки?

$$\square = \dots (\text{кн.})$$



книжок
на 2 менше



Відповідь: \dots книжки.

3. У вазі 7 цукерок, а в коробці на 2 цукерки більше. Скільки цукерок у коробці?

$$\square = \dots (\text{ц.})$$



Відповідь: \dots цукерок.

4. Збільш довжину смужки на 2 клітинки.

Кінець безкоштовного уривку. Щоби читати далі, придбайте,
будь ласка, повну версію книги.

ridmi
ТВІЙ УЛЮБЛЕНИЙ КНИЖКОВИЙ

КУПИТИ