

**Математика. 2 клас. Робочий зошит. Частина 1. (До підручника Будної Н.О., Беденка М.В.) НУШ**

# Про книгу

Пропонований зошит містить навчальний матеріал, який відповідає Державному стандарту початкової освіти, типовим освітнім програмам та підручнику «Математика. 2 клас» (авт. Будна Н.О., Беденко М.В.). Зошит призначено для учнів 2-го класу.

+

Н.О. Будна, М.В. Беденко

# МАТЕМАТИКА

РОБОЧИЙ ЗОШИТ

2 клас

Частина 1

*Схвалено для використання у загальноосвітніх навчальних закладах комісією  
з педагогіки та методики початкового навчання  
Науково-методичної ради з питань освіти  
Міністерства освіти і науки України*



ТЕРНОПІЛЬ  
НАВЧАЛЬНА КНИГА – БОГДАН

+

УДК 51:372.4  
Б 90

*Схвалено для використання у загальноосвітніх навчальних закладах  
комісією з педагогіки та методики початкового навчання  
Науково-методичної ради з питань освіти Міністерства освіти і науки України  
(лист ІМЗО від 05.07.2019 № 22.1/12-Г-583)*

**Будна Н.О.**

Б 90 Математика : робочий зошит : 2 кл. : у 2-х ч. / Ч. 1 /  
Н.О. Будна, М.В. Беденко. — Тернопіль : Навчальна  
книга – Богдан, 2022. — 64 с.

ISBN 978-966-10-7004-1

Пропонований зошит містить навчальний матеріал,  
який відповідає Державному стандарту початкової освіти,  
типовим освітнім програмам та підручнику «Математика.  
2 клас» (авт. Будна Н.О., Беденко М.В.).

Зошит призначено для учнів 2-го класу.

**УДК 51:372.4**

*Охороняється законом про авторське право.  
Жодна частина цього видання не може бути відтворена  
в будь-якому вигляді без дозволу видавництва.*

ISBN 978-966-10-7004-1

© Будна Н.О., Беденко М.В., 2019  
© Навчальна книга – Богдан,  
виключна ліцензія на видання,  
оригінал-макет, 2019

**УВАГА!**

Завантажуйте безкоштовний інтерактивний додаток,  
використовуючи детальну інструкцію, за посиланням:

**[bohdan-digital.com/010322](http://bohdan-digital.com/010322)**



Технічна підтримка: (0352) 52-06-07, 067-352-09-89;  
[admin@bohdan-digital.com](mailto:admin@bohdan-digital.com)







+

До с. 6–8 (№ 25–32)



1. Обчисли. Запиши значення виразів у порядку зростання.

$40 + 10 = \square\square$

$60 - 20 = \square\square$

$50 + 50 = \square\square\square$

$50 + 10 = \square\square$

$90 - 10 = \square\square$

$80 - 10 = \square\square$



2. Порівняй ( $>$ ,  $<$ ,  $=$ ).

$40 + 5 \square 45$


$99 - 1 \square 99$

$36 + 1 \square 77$

$13 + 6 \square 91$


3. Доповни умову запитанням, яке вимагає порівняти числа. Розв'яжи задачу.

Біля школи росло 12 беріз і 16 кленів.



Відповідь:

4. Накресли стільки трикутників, скільки їх на малюнку, і ще три.



+



+

До с. 8-9 (№ 33-39)



1. Обчисли. Запиши значення виразів у порядку зростання.

$36 + 1 = \square\square$

$24 + 1 = \square\square$

$77 + 1 = \square\square$

$83 - 1 = \square\square$

$45 - 1 = \square\square$

$99 - 1 = \square\square$



2. Добери числа, щоб записи були правильними.



$\square\square > 4$

$\square\square < 25$

$\square\square = 60$

$\square\square < 6$

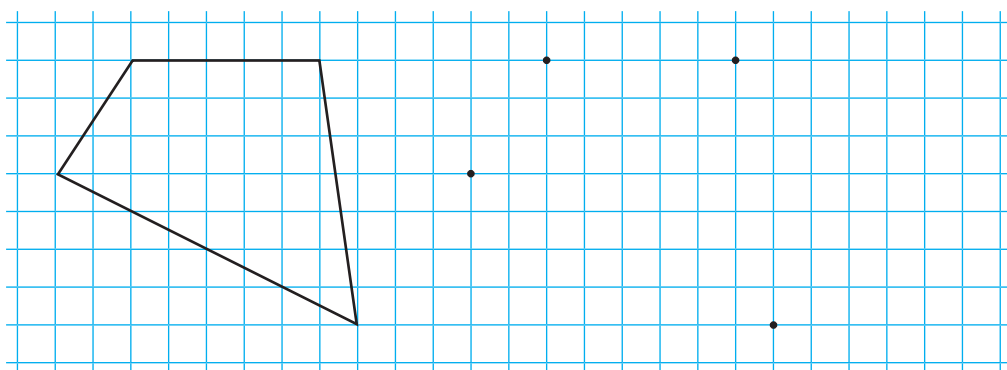
3. У господаря було 19 овець. Дві вівці він постриг. Скільки овець йому залишилося постригти?



4. На гудзик наділи петельку, не повертаючи смужки. Обведи клітинки, які буде видно в результаті.



5. Накресли такий самий чотирикутник.



+

+

До с. 9–10 (№ 40–47)



1.

А	У	О	Н	Л	П	З	В	К	Ж
10	20	30	40	50	60	70	80	90	100

$30 + 30 = \square \square \square$

$20 + 60 = \square \square \square$

$70 - 60 = \square \square \square$

$30 - 10 = \square \square \square$

$30 + 50 = \square \square \square$

$30 + 40 = \square \square \square$

$70 - 50 = \square \square \square$

$70 - 40 = \square \square \square$

$30 + 60 = \square \square \square$

$90 - 40 = \square \square \square$

2.

1 грн =  $\square \square \square$  к.

3.

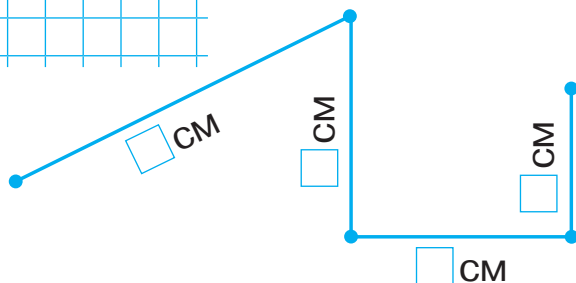

На лижах уміють ходити 28 дітей, а кататися з гірки — на 3 менше. Скільки дітей уміють кататися з гірки на лижах?



Відповідь:

4.

Знайди довжину ламаної лінії.



+

Кінець безкоштовного уривку. Щоби читати далі, придбайте, будь ласка, повну версію книги.

**ridmi**  
ТВІЙ УЛЮБЛЕНИЙ КНИЖКОВИЙ

**КУПИТИ**